



**EVALUAREA COMPETENȚELOR FUNDAMENTALE
LA FINALUL CLASEI a II-a
2021**

Test 1

MATEMATICĂ

Județul / sectorul.....

Localitatea.....

Școala.....

Numele și prenumele elevei / elevului.....

.....

Clasa a II-a.....

Băiat

Fată

LA PĂDURE



Alina, Cornel, Florina și Toader au realizat un portofoliu despre pădure, pentru care au căutat fotografii cu plante și animale. Numărul fotografiilor găsite de fiecare copil este scris în tabelul de mai jos.

Alina	Cornel	Florina	Toader
123	180	113	152


1. Cornel compară numărul fotografiilor găsite de Florina cu numărul fotografiilor găsite de Toader. **Compară-le și tu!**
Scrive, în caseta de mai jos, unul din semnele $<$, $>$, $=$ pentru ca relația să fie corectă.

113 152

Nu se completează de către elev
COD

1.

2. Florina a calculat suma dintre cel mai mare și cel mai mic număr de fotografii găsite de fiecare dintre cei patru copii.
Scrive, pe spațiul dat, rezolvarea problemei.





Nu se completează de către elev
COD

2.

3. Alina așază câteva fotografii ca în imaginea de mai jos. Câte fotografii a așezat în total Alina?

Calculează prin adunare repetată de termeni egali.

Scrie, pe spațiul dat, rezolvarea problemei.



Nu se completează de către elev
COD

3.

4. Toader a lipit pe o foaie fotografiile cu plante care se întâlnesc în pădure. El a așezat fotografiile pe 4 rânduri, fiecare rând având câte 6 fotografii. Câte fotografii a lipit Toader pe foaie?


Încercuiește litera corespunzătoare răspunsului corect.

- a) 2
- b) 6
- c) 10
- d) 24

Nu se completează de către elev
COD

4.


5. Cornel a prezentat colegilor 16 fotografii cu animale care trăiesc în pădure, iar fotografiile cu plante de 4 ori mai puține. Câte fotografii cu plante a prezentat Cornel?
Calculează prin scădere repetată a aceluiași număr.
Scrive, pe spațiul dat, rezolvarea problemei.



Nu se completează de către elev
COD

5.

6. Alina a realizat o fotografie cu o căprioară întâlnită în pădure. Cu ce figură geometrică se aseamănă rama acestei fotografii?
Încercuiește litera corespunzătoare răspunsului corect.



- a) cerc
- b) dreptunghi
- c) pătrat
- d) triunghi

Nu se completează de către elev
COD

6.

7. Florina realizează un album cu unele dintre fotografiile găsite, respectând regula din șirul de mai jos. Ce fotografii urmează în șir?

Încercuiește litera corespunzătoare răspunsului corect.



a)



b)



c)



d)



Nu se completează de către elev
COD

7.

8. Toader a hotărât să le dea prietenilor săi 24 de fotografii cu animale din pădure. El a pregătit câte 4 fotografii pentru fiecare prieten. Câți prieteni are Toader?

Încercuiește litera corespunzătoare răspunsului corect.

- a) 4
- b) 6
- c) 20
- d) 28

Nu se completează de către elev
COD

8.

9. Pentru realizarea portofoliului, Alina a lipit într-o zi fotografii de la ora 10:00 până la ora 12:00. Câte ore a lipit Alina fotografii?

Încercuiește litera corespunzătoare răspunsului corect.



- a) 1 oră
- b) 2 ore
- c) 3 ore
- d) 4 ore

Nu se completează de către elev
COD

9.

10. Cornel a lipit pe cartonașe câteva dintre fotografiile găsite.

Scrive, în spațiul dat, numele formei geometrice pe care o are cartonașul care are lipită fotografia ciupercuțelor.



Cartonașul pe care este lipită fotografia ciupercuțelor are forma de _____ .

Nu se completează de către elev
COD

10.

11. Florina a găsit o fotografie cu o veveriță. În ce parte a fotografiei se află veverița?
Încercuiește litera corespunzătoare răspunsului corect.



- a) în dreapta jos;
- b) în dreapta sus;
- c) în stânga jos;
- d) în stânga sus.

Nu se completează de către elev
COD

11.

